

HISTORIA, GEOGRAFÍA Y CIENCIAS SOCIALES

- SEMANA N°: 2
- CLASE: N° 2
- CURSO: 5° Básico
- DOCENTE: Sandra Mosqueira Nuñez
- CORREO
- ELECTRÓNICO: smosqueira@americanacademy.cl
(Solo será contestado en días y horarios hábiles)

OBJETIVOS: Establecer los límites de la zona denominada "Norte Chico".

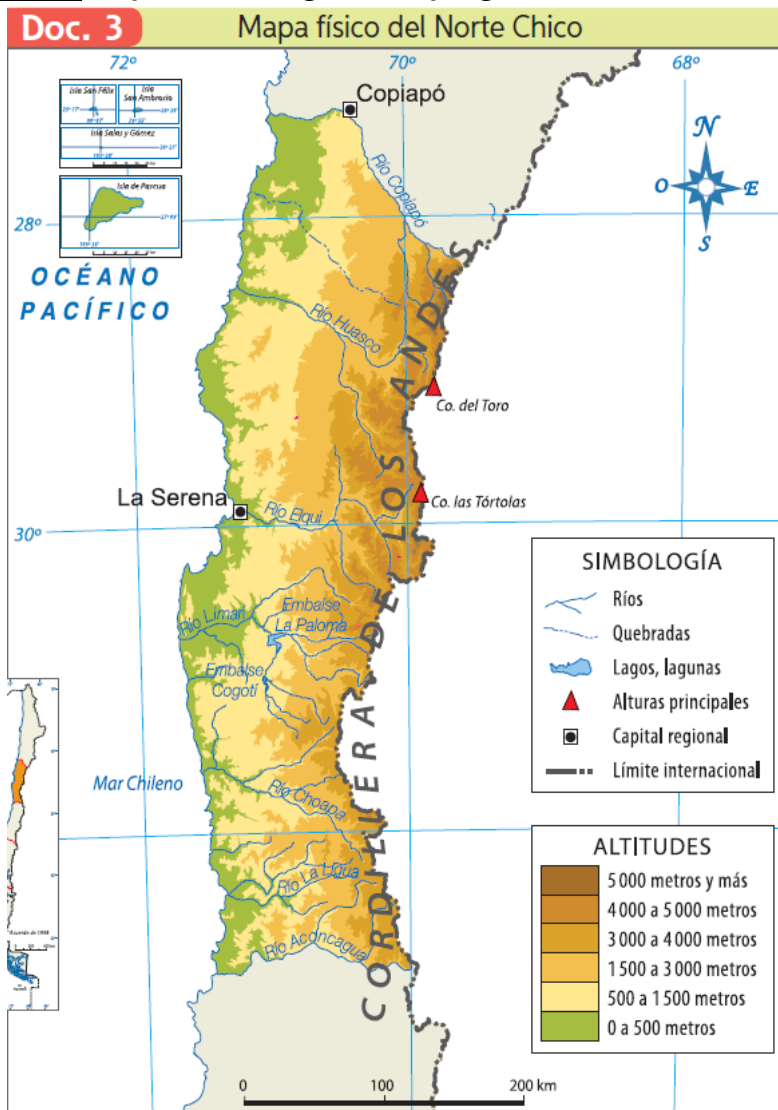
- ✓ Reconocer las características que permiten establecer elementos en común en el relieve, el clima, la vegetación, la flora y la fauna del Norte Chico.
- ✓ Señalar las características de la población, los recursos naturales y los riesgos naturales del Norte Chico.
- ✓ Desarrollar la habilidad de interpretar mapas, lo que permite localizar lugares y apreciar la distribución espacial de diversos fenómenos.

CONTENIDOS DE LA SEMANA: Caracterizar el Norte Chico.

- DESARROLLO

Guía de estudio 2 Norte Chico

INICIO: Responde las siguientes preguntas, antes de leer la guía:



Fuente: Atlas escolar IGM-SM, 2015.

1.- ¿Para qué sirven los mapas?

2.- ¿Qué tipos de mapas conoces?

3.- ¿Qué zona de Chile está representada en este mapa?

4.- ¿Qué semejanzas y diferencias creen que hay entre esta zona y el Norte Grande?

5.- ¿Cómo te imaginas el Norte Chico?

Interpreto mapas: Un mapa representa la forma en que un fenómeno se distribuye sobre la superficie de la Tierra o de un territorio específico.

Para interpretar un mapa puedes realizar los siguientes pasos:

- 1.- Determinar que fenómeno representa el mapa. Para ello, debes leer su título y observar la simbología.
- 2.- Reconocer cuál es el territorio en que se representa el fenómeno estudiado (continente, país, región, ciudad, etc.).
- 3.- Identificar el significado de cada símbolo. Para esto es necesario revisar cuidadosamente la simbología.
- 4.- Establecer relaciones y comparaciones entre los símbolos, y con ello, de los elementos representados (distancias, tamaños, profundidades, alturas, etc.).
- 5.- Establecer relaciones entre los símbolos y el territorio, describiendo la distribución de cada elemento representado en esa área.

Actividad: Observa el mapa del Doc. 3 y responde las siguientes preguntas:

1.- ¿Que territorio está representado en el mapa?

2.- ¿Que fenómeno se observa en él?

3.- ¿Que representan sus simbologías?

DESARROLLO: Lee atentamente la siguiente información y subraya las ideas importantes.

a) **Características de la región:** Esta área se caracteriza, entre otros aspectos:

- ✓ Por sus amplias y extensas planicies litorales.
- ✓ por sus fértiles valles.
- ✓ Por los cielos despejados de las zonas precordilleranas.



Observatorio La Silla.

b) **Ubicación geográfica:** El norte chico comprende las siguientes regiones:

- La región de Atacama
- La región de Coquimbo
- Norte de la región de Valparaíso.

La zona del Norte Chico se extiende desde el río Copiapó hasta el río Aconcagua

c) **Relieve:** Posee dos macroformas bien definidas las Planicies Litorales y la Cordillera de los Andes.

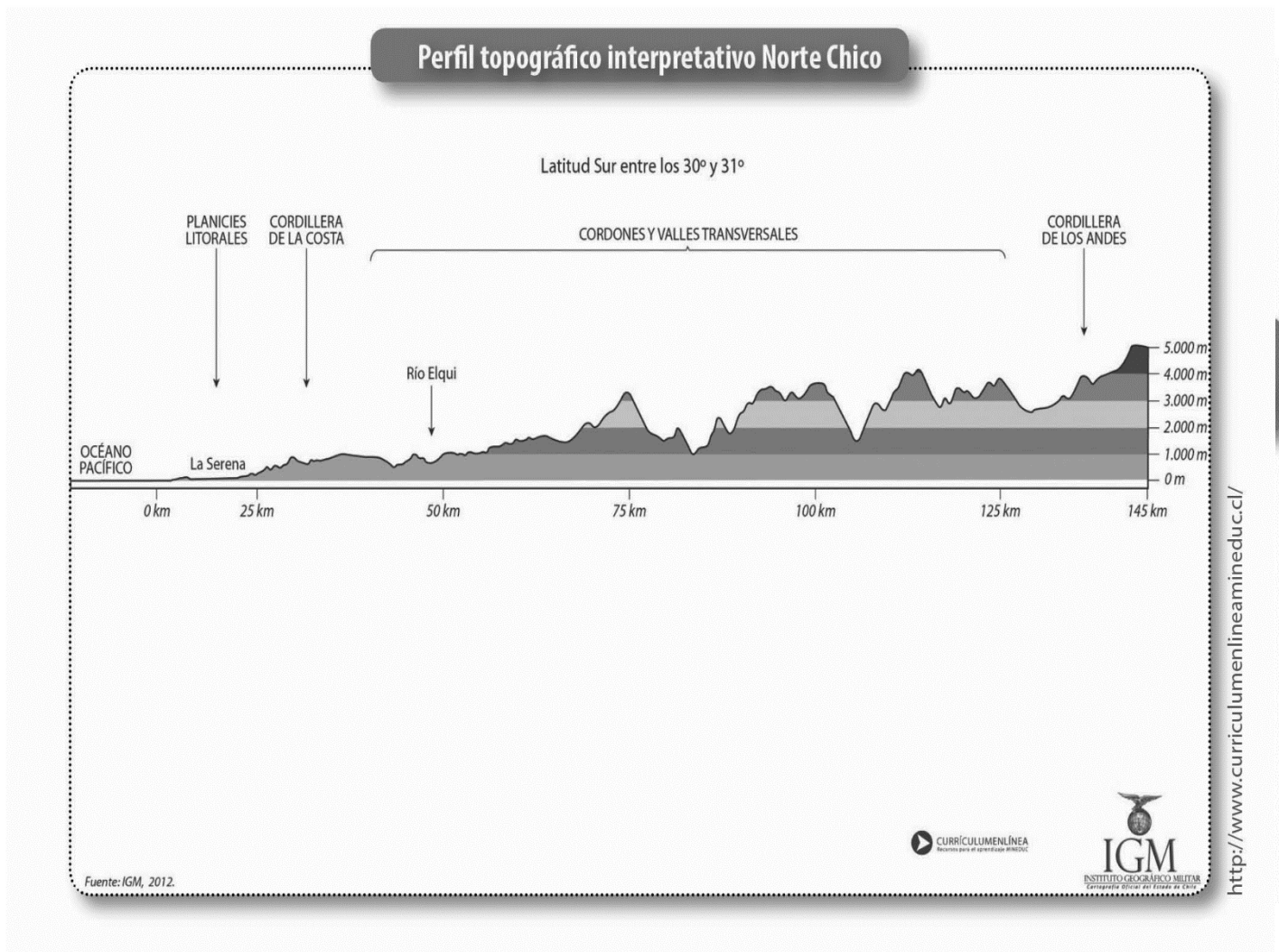
c.1) Planicies Litorales: Son muy amplias, especialmente en la desembocadura de los ríos. En ellas se localizan ciudades y puertos como La Serena y Coquimbo.

c.2) Cordillera de la Costa: Está fragmentada por la erosión (desgaste producido por el viento o el agua) y es atravesada por ríos que forman valles.

c.3) Depresión Intermedia: La cruzan **cordones montañosos** que unen la cordillera de la Costa con la de los Andes. Ello origina los **valles transversales** por los que fluyen los ríos Copiapó, Elquí,

Huasco, Choapa y Limarí, donde se desarrolla la agricultura. En este lugar se concentra la población y la actividad agrícola.

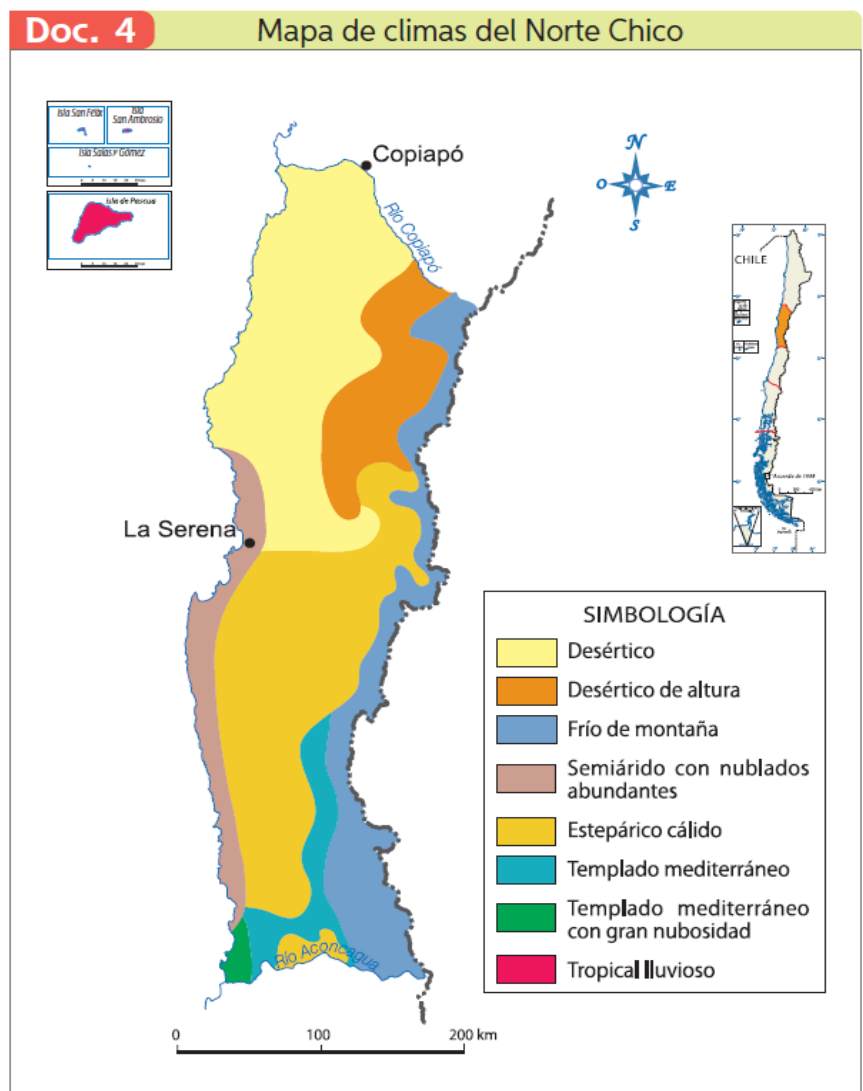
c.4) Cordillera de los Andes: Es de menor altura que en el Norte Grande, y carece de volcanismo activo.



d) Clima: El clima es estepárico (semiárido) cálido, con temperaturas más moderadas y precipitaciones más frecuentes, desde La Serena hacia el sur. La temperatura bordea los 16°C.

- ✓ Clima desértico
- ✓ Clima desértico de altura
- ✓ Frío de montaña
- ✓ Semiárido con nublados abundantes
- ✓ Estepárico cálido
- ✓ Templado mediterráneo
- ✓ Templado mediterráneo con gran nubosidad
- ✓ Tropical lluvioso

En conclusión es un clima semiárido con nublados abundantes.

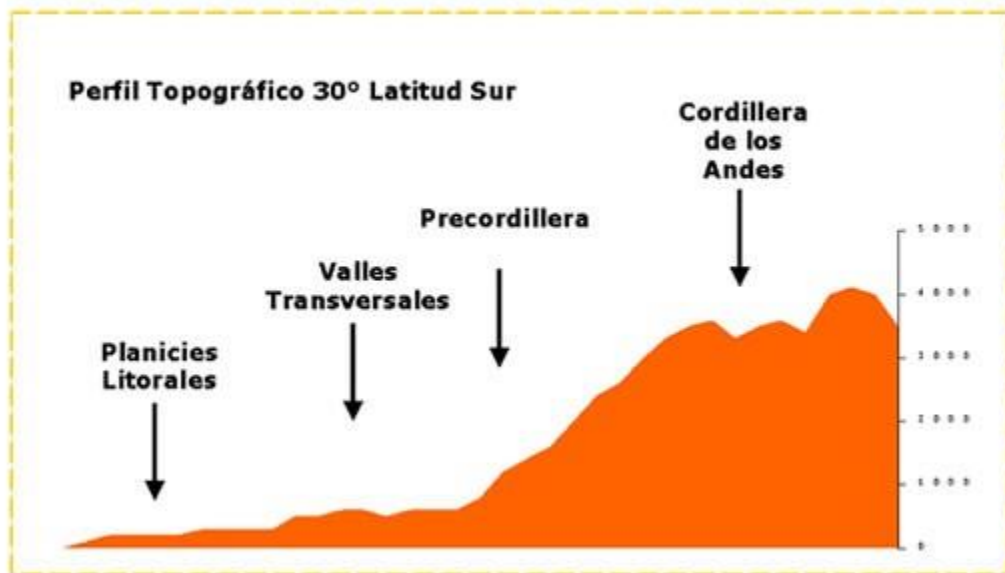


CIERRE: Compara el perfil topográfico del Norte Grande y Norte Chico y contesta las siguientes preguntas:

Zona Norte Grande (XV, I y II Región)



Zona Norte Chico (III y IV Región)



1.- ¿Qué macroforma existe solo en el Norte Grande y no en el Norte Chico?

2.- ¿Qué macroforma existe solo en el Norte Chico?

3.- La altura de la Cordillera de los Andes en el Norte Grande y en el Norte Chico es...

4.- ¿Dónde está la altura más elevada de la Cordillera de los Andes?

5.- La Depresión Altiplánica, se encuentra en la Cordillera _____
Y corresponde a un lugar _____

6.- Los Valles Transversales se encuentran en la macroforma llamada _____

7.- ¿Por qué en el Norte Chico hay mayor vegetación que en el Norte Grande?

- RECURSOS EDUCATIVOS ADICIONALES:
<https://www.youtube.com/watch?v=s4Af1scR53M>
<https://www.youtube.com/watch?v=AZ5bf0d7v3Q>