



## HISTORIA, GEOGRAFÍA Y CIENCIAS SOCIALES

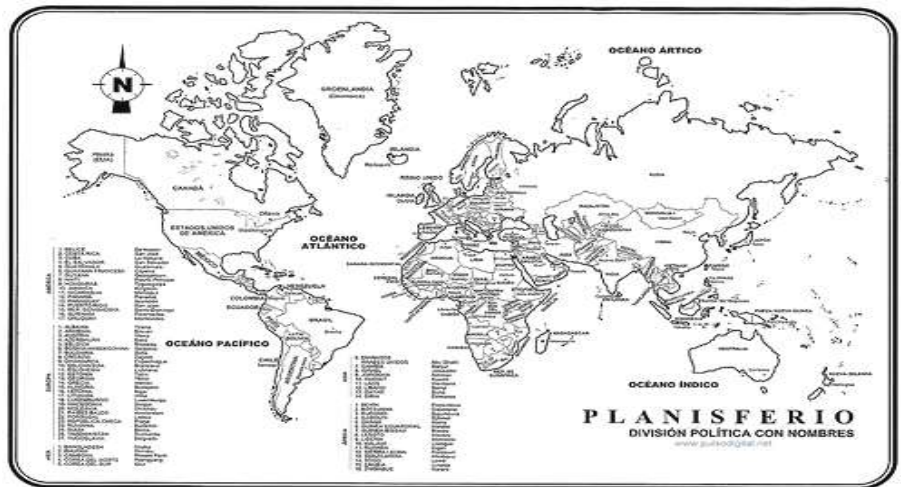
- SEMANA N°: 1
- CLASE: N° 3
- CURSO: 3° A/B
- DOCENTE: Patricia Macaya N.
- CORREO ELECTRÓNICO: pmacaya@americanacademy.cl  
(solo será contestado en días y horarios hábiles)

### OBJETIVOS:

- Orientarse en el espacio, utilizando referencias, categorías de ubicación relativa y puntos cardinales.
- Leer y comunicar información geográfica por medio de distintas herramientas (planos, mapas, globos terráqueos y diagramas).

**CONTENIDOS DE LA SEMANA:** Orientación espacial. Ubicación relativa. Puntos cardinales.

- **DESARROLLO:** Si quisiéramos ver la forma de nuestro planeta, sus continentes y océanos, tendríamos que salir al espacio, ya que esto no es posible para todas las personas del mundo. Se han creado distintas maneras de representar la Tierra: el **Globo Terráqueo** y el **Planisferio**.



Observa las imágenes y escribe el nombre que corresponde a cada una.



--	--	--	--

**Antes de realizar la siguiente actividad recordemos dos conceptos:**

**\*Planos:** son representaciones de espacios pequeños, como una habitación; o más grandes como ciudades.

**\*Mapas:** son representaciones geográficas de la Tierra o de parte de ella.

- Marca con una **X**, según corresponda (mapa o plano).









	plano	mapa
¿En cuál se observan las calles de una ciudad?		
Para construir una casa necesitaría un		
Para representar un país dibujaría un		
Para mostrar la dirección de mi casa me serviría un		
Para organizar un viaje de vacaciones usaría un		
¿Cuál representa un espacio más grande?		

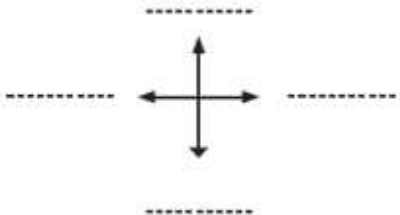
- Completa la Rosa de los Vientos, escribiendo los puntos cardinales en las líneas.
- En la cuadrícula, dibuja donde correspondan los símbolos que representan los siguientes elementos:

- Casa (B, 5)
- Hospital (F, 2)
- Iglesia (D, 6)
- Restaurante (A, 3)
- Panadería (E, 1)
- Colegio (B, 4)
- Plaza (F, 3)
- Cancha fútbol (E, 4)

	A	B	C	D	E	F
1						
2						
3						
4						
5						
6						

**Simbología**

-  Plaza
-  Casa
-  Panadería
-  Colegio
-  Hospital
-  Cancha de fútbol
-  Restaurante
-  Iglesia



Completa, escribiendo el punto cardinal que corresponde:

- La cancha de fútbol se ubica al \_\_\_\_\_ del colegio.
- El hospital está al \_\_\_\_\_ de la plaza.
- El restaurante está al \_\_\_\_\_ de la plaza.
- La casa se ubica al \_\_\_\_\_ del colegio.